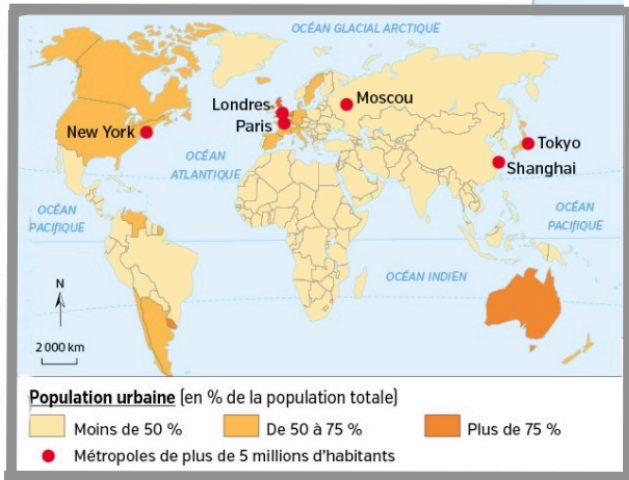
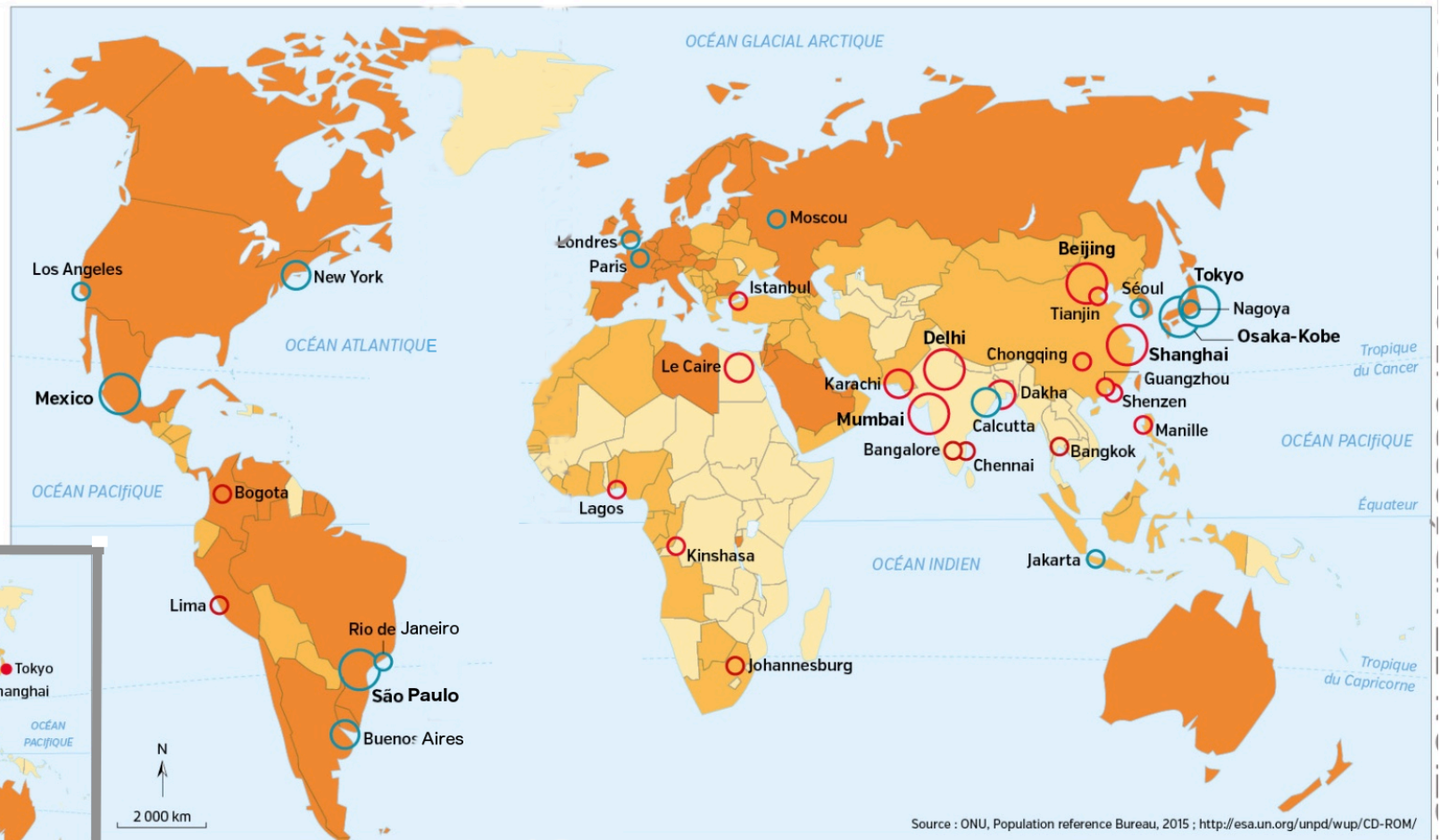


Dossier du livre p. 198-199



1 L'urbanisation en 1950

2 L'urbanisation en 2015

Population urbaine
(en % de la population totale)

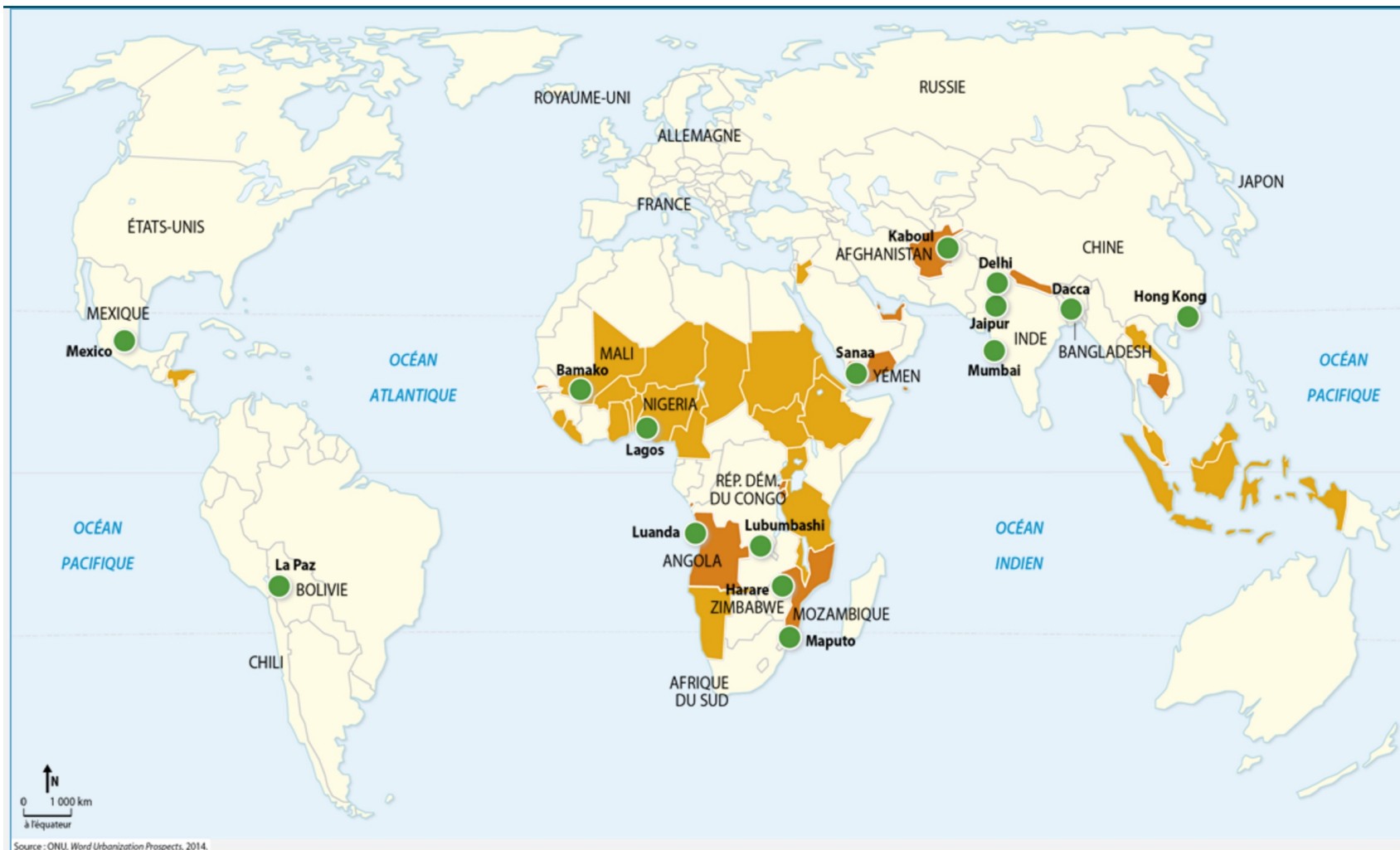
| |
|---------------|
| Plus de 75 % |
| De 50 à 75 % |
| Moins de 50 % |

Principales métropoles mondiales

| |
|-----------------------------------|
| ○ Plus de 20 millions d'habitants |
| ○ 15 à 20 millions d'habitants |
| ○ 10 à 15 millions d'habitants |

Les dynamiques actuelles

| |
|------------------------------------------------------------------------------------|
| ○ Métropoles ayant connu une très forte croissance depuis 25 ans (plus de 50 %) |
| ○ Métropoles ayant connu une croissance plus modérée depuis 25 ans (moins de 50 %) |



● Grandes villes en croissance forte

Taux de croissance urbaine annuelle (en %)
(moyenne 1990-2006)






■ de 6 à 8

■ de 4 à 6

Planisphère des pays connaissant le plus fort taux d'urbanisation dans le monde

Les figurés et leur usage en cartographie

► Je choisis un mode de représentation pour chaque information.

| | | |
|-----------------------------------|--------------------------------------------------------------------------------|----------------------------------------------------------------------------------------------------------|
| Pour représenter un point | Ex. : ville, port, lieu touristique, pôle industriel... | Figuré ponctuel  |
| Pour représenter une ligne | Ex. : axe de communication, cours d'eau, flux, interface, limite climatique... | Figuré linéaire  |
| Pour représenter une zone | Ex. : région agricole, région industrielle, densité de population... | Figuré de surface  |
| La taille des figurés | Ex. : l'importance des agglomérations. |  |
| La taille des flèches | Ex. : l'importance des flux. |  |

NOM :

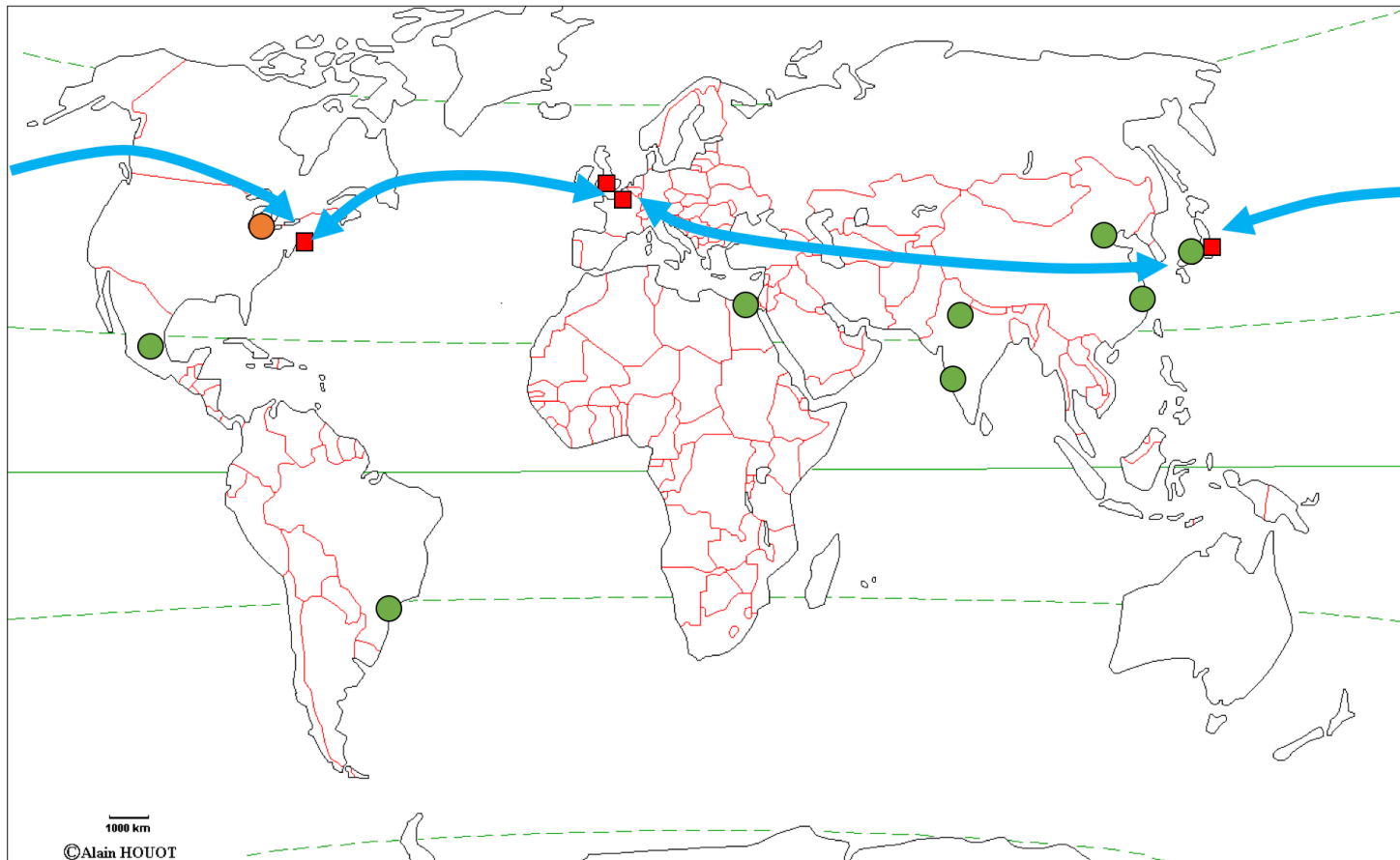
Prénom :

Classe :

Activité 8 – Tâche cartographique

Dossier p.198-199 ou sur le site internet (4^e – Chapitre G1) ou sur l'ENT

- 1°) A l'aide d'un figuré de surface rouge, coloriez les pays ayant une population urbaine supérieure à 75 %.
- 2°) A l'aide d'un figuré de surface orange, coloriez les pays ayant une population urbaine entre 50% et 75%.
- 3°) A l'aide d'un figuré de surface jaune, coloriez les pays ayant une population urbaine inférieure à 50%.
- 4°) Indiquez le nom des villes mondiales représentées sur la carte par des rectangles.
- 5°) Indiquez le nom des plus grandes villes mondiales représentées sur la carte par un figuré ponctuel vert.
- 6°) Indiquez le nom de la ville, située aux Etats-Unis, représentées par un figuré ponctuel orange, que nous avons étudiées lors de l'étude de cas.
- 7°) A l'aide d'un figuré de surface adapté, coloriez les pays connaissant un taux de croissance urbaine annuel situé entre 6 et 8%.
- 8°) Complétez la légende, indiquez l'orientation et donnez un titre à votre croquis.



Titre :

| I. La population urbaine dans le monde | | II. Les métropoles mondiales, symboles de la mondialisation | | III. Croissance de l'urbanisation et réseaux de villes dans la mondialisation | |
|----------------------------------------|-----------------------------------------------------|-------------------------------------------------------------|-----------------------------------|-------------------------------------------------------------------------------|------------------------------------------------------------------------------|
| Figuré | Signification | Figuré | Signification | Figuré | Signification |
| <input type="checkbox"/> | Pays ayant une population urbaine supérieure à 75 % | <input type="checkbox"/> | Villes mondiales | <input type="checkbox"/> | Pays ayant un taux de croissance urbaine annuelle supérieure de 6 à 8% |
| <input type="checkbox"/> | Pays ayant une population urbaine entre 75 et 50% | <input type="checkbox"/> | Grandes métropoles mondiales | | Principaux flux d'informations, de capitaux et de marchandises dans le monde |
| <input type="checkbox"/> | Pays ayant une population urbaine inférieure à 50% | <input type="checkbox"/> | Ville de l'étude de cas : Detroit | | |

| | |
|-----------------------------------------------------------|--------------------|
| Respect des consignes (choix des figurés et des couleurs) | / 5 points |
| Noms des villes indiquées | / 3 points |
| Bonne localisation des figurés de surface | / 3 points |
| Cohérence Croquis/Légende | / 2 points |
| Titre / Orientation | / 2 points |
| Propreté du croquis | / 5 points |
| Total | / 20 points |